


Mina

www.littletravelsociety.de

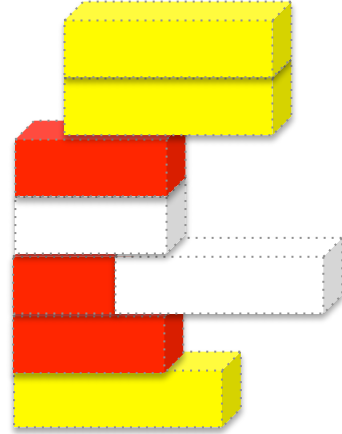


Zähle alle Steine (4er, 6er, 8er) zusammen.

Summe: _____

Zoe

www.littletravelsociety.de




Zähle alle 8er zusammen.

Summe: _____

Sara

www.littletravelsociety.de




Zähle nur die roten Steine zusammen.

Summe: _____

Lea


www.littletravelsociety.de



Zähle nur blauen Steine zusammen.

Summe: _____

Paul




www.littletravelsociety.de

Zähle nur die 4er-Steine zusammen

Summe:

Tom




www.littletravelsociety.de

Zähle alle Steine (4er, 6er, 8er) zusammen.

Summe:

Leo

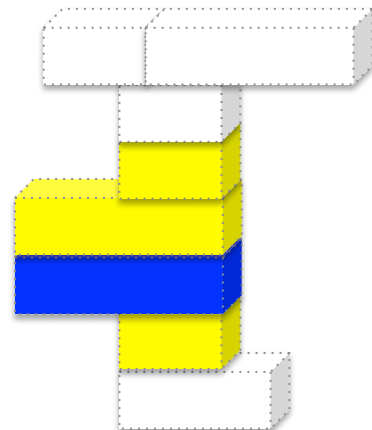


www.littletravelsociety.de

Zähle nur die Steine zusammen, die nicht grün sind

Summe:

Max



www.littletravelsociety.de

Zähle alle Steine zusammen, die nicht weiß sind.

Summe:
